

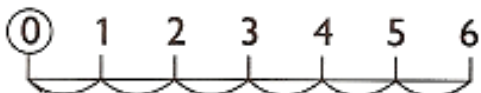


Vamos fazer adição na trilha! É muito legal!

### ADICIONANDO NA RETA NUMÉRICA

Cada movimento corresponde a uma adição.

VEJA:



$$0 + 6 = 6$$

Agora é a sua vez:

a)




$$0 + 4 = \underline{\quad}$$

b)




$$1 + 3 = \underline{\quad}$$

c)



$$2 + 7 = \underline{\quad}$$

d)




$$4 + 4 = \underline{\quad}$$

1) Resolva os problemas:

a)



◀ VEJA quantas bolinhas de borracha Juca tinha em sua coleção.




- Em seu aniversário ele ganhou mais 3 bolinhas. Quantas bolinhas ele tem agora?

**Registro:**

Resposta: \_\_\_\_\_

- a) Manoel colheu melancias em sua horta. Para saber quantas melancias colheu, ele as arrumou em 4 caixas com 3 melancias em cada uma delas.



- a) Quantas melancias ele colheu? \_\_\_\_\_

- b) Se colher mais 3 melancias, quantas serão ao todo? \_\_\_\_\_

**Registros:**

*Imagens disponíveis em: <images.google.com>*